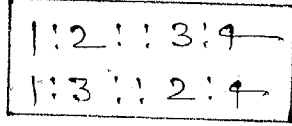


CHAPTER → 22 (ANALOGY TEST)

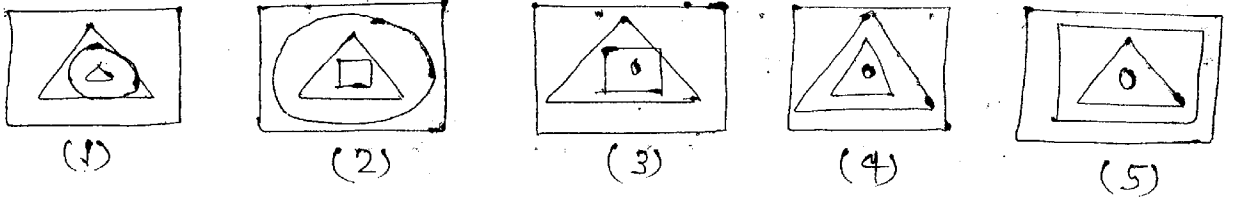
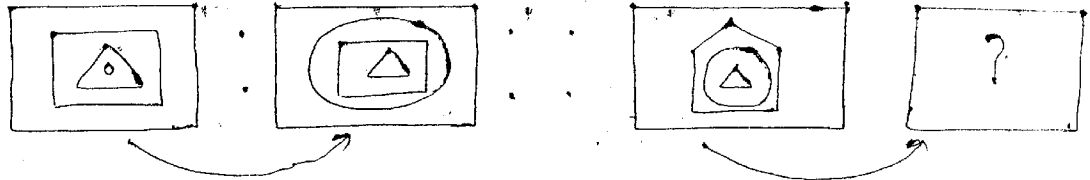
(सम्बन्ध या सादृश्य परीक्षा)

इस खनापली के अन्तर्गत कुछ आकृतियों की गयी होती हैं। पहली एवं दूसरी आकृति के बीच जो सम्बन्ध होता है वही सम्बन्ध तीसरी एवं उत्तर विकल्प के बीच निकालना होता है।

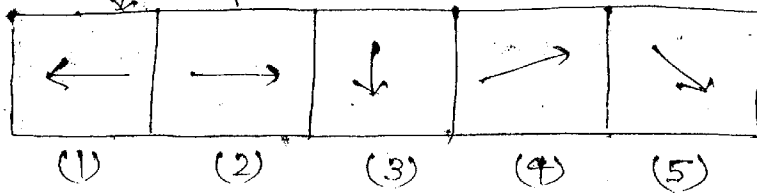
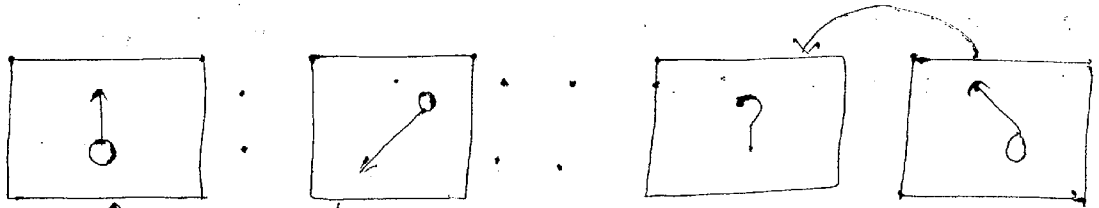
Example.



Q1.



Q2.



Q3.

